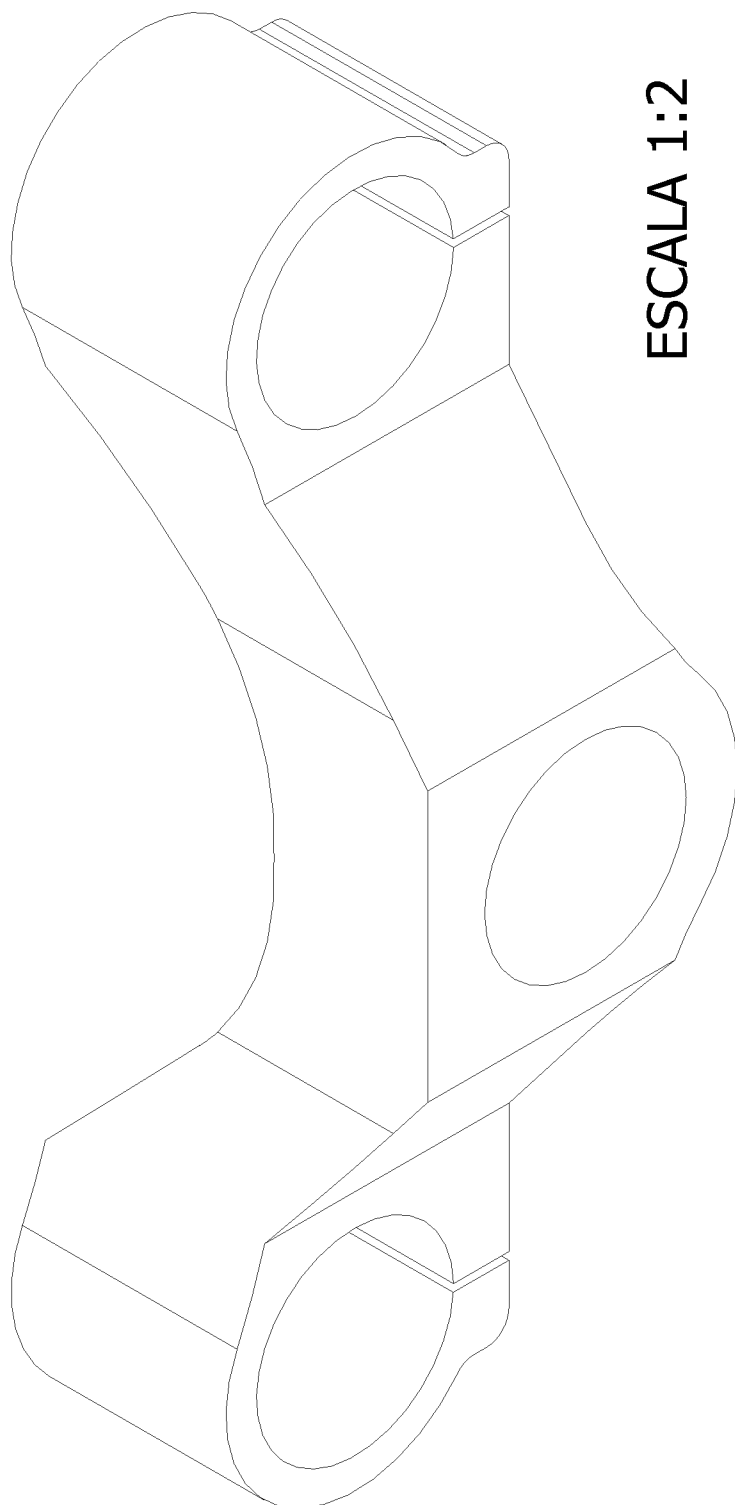


1.- Dada la pieza de la figura, se pide:

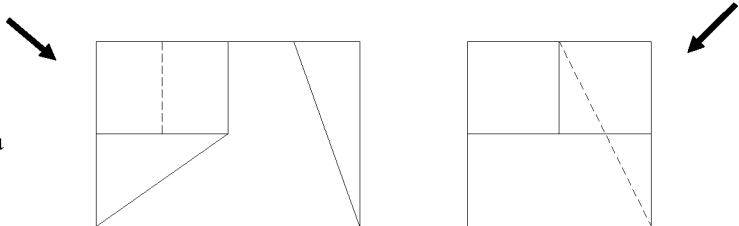
a) Representar la pieza en sistema diédrico europeo a una escala conforme al tamaño del papel disponible, utilizando las vistas necesarias y suficientes y con los cortes y secciones considerados necesarios para su completa definición. No aplicar coeficiente de reducción. (3 puntos)

b) Acotar íntegramente la pieza en sistema diédrico. (2 puntos)



2.- Dada la pieza en proyección **diédrica y sistema europeo**.

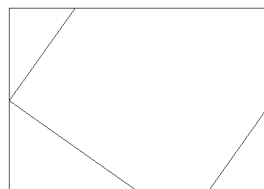
a) En la malla que se propone, representar la pieza en sistema **axonométrico isométrico** en escala apropiada usando coeficientes de reducción **K=1**, seleccionar el **punto de vista solicitado** más adecuado.



(4 puntos)

b) **Acotar** la pieza sobre el axonométrico.

(1 puntos)



ESCALA 4:1

